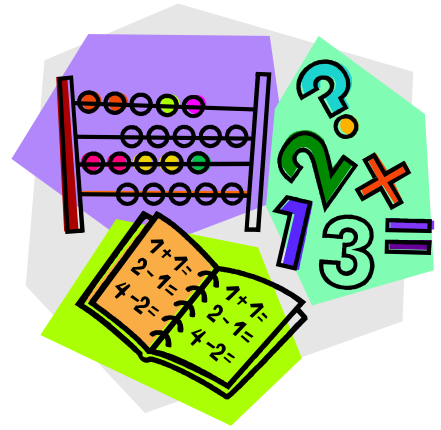
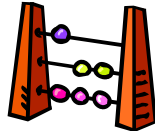


PŘEDMĚT MATEMATIKA

(GEOMETRIE)



POČÍTADLO



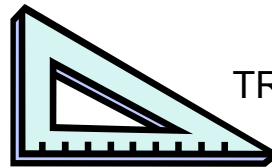
PRAVÍTKO



PRAVÍTKEM RÝSUJI ČÁRY.




TROJÚHELNÍK



KRUŽÍTKO




KRUŽÍTKEM RÝSUJI KRUŽNICI.




GEOMETRICKÉ TVARY


ČTVEREC




KRUH



OBDÉLNÍK



TROJÚHELNÍK



V MATEMATICE POČÍTÁM.

SČÍTÁM

$$5 + 1 = 6$$

ZNAMÉNKO + (PLUS)

čtu: PĚT PLUS JEDNA ROVNÁ SE ŠEST.

ODČÍTÁM

$$4 - 2 = 2$$

ZNAMÉNKO - (MINUS)

čtu: ČTYŘI MINUS DVA ROVNÁ SE DVA.

NÁSOBÍM

$$3 \cdot 4 = 12$$

ZNAMÉNKO . (KRÁT)

čtu: TŘI KRÁT ČTYŘI ROVNÁ SE DVANÁCT.

DĚLÍM

$$10 : 5 = 2$$

ZNAMÉNKO : (DĚLENO)

čtu: DESET DĚLENO PĚTI ROVNÁ SE DVĚ.

ČÍSLA- JEDNOTKY

1 2 3 4 5 6 7 8 9

ČÍSLA – DESÍTKY

10 20 30 40 50 60 70 80 90

ČÍSLA – STA

100 200 300 400 500 600 700 800 900

V GEOMETRII RÝSUJI.

RÝSUJI PRAVÍTKEM , TUŽKOU A KRUŽÍTKEM.